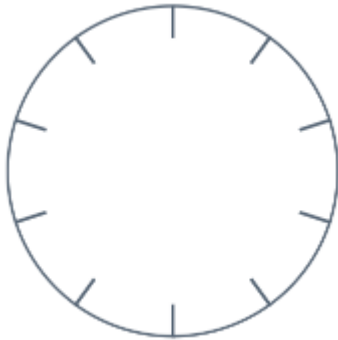


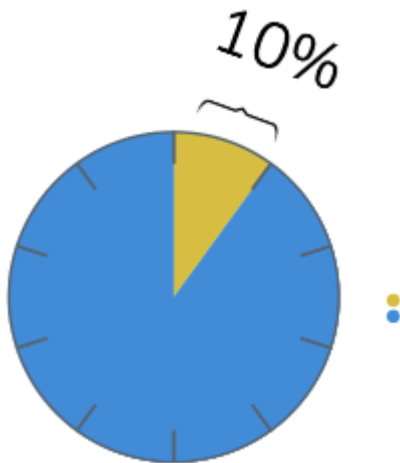
# Hulpkaart procenten

1. De hele cirkel is 100%

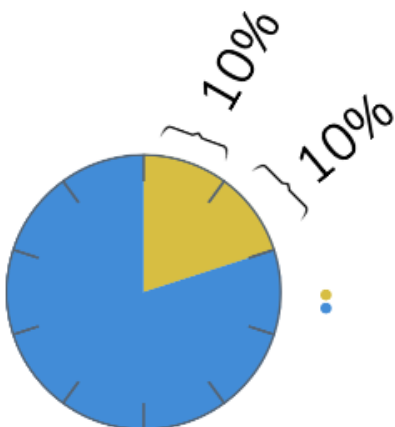


2. Om een percentage af te lezen, tel je eerst het aantal streepjes van het cirkeldiagram of staafdiagram.

3. Als je 100% deelt door 10 dan is ieder stukje 10%.



4. Als er meerdere stukjes zijn gekleurd, tel je de procenten bij elkaar op.



$$10 + 10 = 20 \%$$